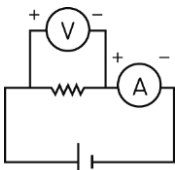
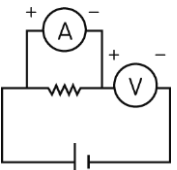
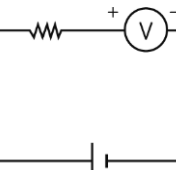
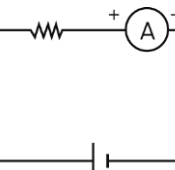


高樹國中 112 學年九年級自然科第一學期補考卷

___年___班 座號：___ 姓名：_____

單一選擇題 (每題 10 分, 共 100 分)

- () 在清掃保麗龍碎屑時，碎屑通常很容易就「附著在掃帚上，不易掉落」。前述「 」內的現象，最有可能是保麗龍碎屑與掃帚之間的哪一種作用力造成的？ (A)磁力 (B)靜電力 (C)空氣阻力 (D)萬有引力。
- () 天文學是以光年作為什麼的單位？ (A)時間 (B)重量 (C)距離 (D)數量。
- () 在地球上看見月亮，月亮是由哪個方位升起，哪個方位落下？ (A)西升東落 (B)東升西落 (C)南升北落 (D)北升南落。
- () 以太陽為中心，類地行星之運行軌道由內到外的排列順序，下列何者正確？ (A)水星→金星→地球→火星 (B)水星→地球→火星→金星 (C)火星→地球→水星→金星 (D)火星→地球→金星→水星。
- () 通路中，金屬導線上出現電流，實際上是何種粒子流動所形成？ (A)中子的流動 (B)質子的流動 (C)電子的流動 (D)離子的移動。
- () 無論連接多少家用電器，家用電器的電壓不會改變，這是因為家用電器的連接都採用下列何種連接方式？ (A)串聯 (B)並聯 (C)串聯後再並聯 (D)並聯後再串聯。
- () 地球上的海水會有潮汐現象，主要的力量來源是下列何者？ (A)大氣壓力 (B)月球的引力 (C)風力 (D)海水的浮力。
- () 小行星帶主要位於哪兩顆星之間？ (A)水星、金星 (B)金星、火星 (C)火星、木星 (D)木星、土星。
- () 為了同時測量一電阻器中的電流及兩端電壓，下列何種電路的接法正確？
(A)  (B)  (C)  (D) 
- () 月食現象主要是指下列何種狀況？ (A)地球遮住月球所反射出的光 (B)太陽遮住月球所反射出的光 (C)月球遮住太陽射向地球的光 (D)地球遮住太陽射向月球的光。